

المصفى : الخامس ابتدائي




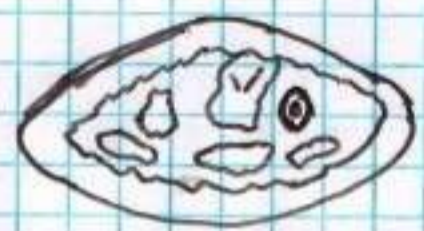
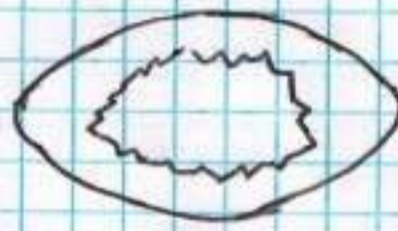
ابتدائية أولعزير الحاج

اختبار الفصل الثالث في التربية العلمية

مقاطعة بني راشد

العام الدراسي : 2015/2016

(1) لاحظ وتأمل بيضه ملقحة ، ثم رتب مراحل تطورها بوضع الأرقام المناسبة في مكانها : 1 - 2 - 3 - 4 .



(2) أكمل الفراغ بالكلمة المناسبة : الإلقاح - الخارجي - ملقحة - الداخلي - كتكون

- الإلقاح يتم في وسط برّي داخل جسم الأنثى .

- اتحاد بويضة مع ذبذبة يشكّلان بيضة

- يتكاثر السمك عن طريق

- الإلقاح يتم في وسط مائي خارج جسم الأنثى .

- تتحوّل بيضة الدجاجة إلى بعد 21 يوم .

(3) صلّ بينهم بين الجهاز ونوع مصدر الطاقة :

• آلة الغسيل

• آلة التّصوير

• المكيف الهوائي

• المصباح اليدوي

• الآلة الحاسبة

• التّلاّجة

• كهرباء القطّاع

(4) يتكوّن الماء من

الاسم :	العلامة	الملاحظة	إمضاء الوليّ
اللقب :			